


Contar Animales (i)

Cuente la cantidad en cada conjunto de animales.

1. Hay _____ animales en el conjunto siguiente.



2. Hay _____ animales en el conjunto siguiente.




3. Hay _____ animales en el conjunto siguiente.



4. Hay _____ animales en el conjunto siguiente.



5. Hay _____ animales en el conjunto siguiente.



6. Hay _____ animales en el conjunto siguiente.




Contar Animales (I) Respuestas

Cuente la cantidad en cada conjunto de animales.

1. Hay 14 animales en el conjunto siguiente.



2. Hay 9 animales en el conjunto siguiente.




3. Hay 30 animales en el conjunto siguiente.



4. Hay 21 animales en el conjunto siguiente.



5. Hay 36 animales en el conjunto siguiente.



6. Hay 35 animales en el conjunto siguiente.

