


Contar Animales (A)

Cuente la cantidad en cada conjunto de animales.


1. Hay _____ animales en el conjunto siguiente.




2. Hay _____ animales en el conjunto siguiente.



3. Hay _____ animales en el conjunto siguiente.



4. Hay _____ animales en el conjunto siguiente.



5. Hay _____ animales en el conjunto siguiente.




6. Hay _____ animales en el conjunto siguiente.



Contar Animales (A) Respuestas

Cuente la cantidad en cada conjunto de animales.


1. Hay 25 animales en el conjunto siguiente.




2. Hay 35 animales en el conjunto siguiente.



3. Hay 36 animales en el conjunto siguiente.




4. Hay 24 animales en el conjunto siguiente.



5. Hay 12 animales en el conjunto siguiente.



6. Hay 28 animales en el conjunto siguiente.



Contar Animales (B)

Cuente la cantidad en cada conjunto de animales.


1. Hay _____ animales en el conjunto siguiente.



2. Hay _____ animales en el conjunto siguiente.



3. Hay _____ animales en el conjunto siguiente.



4. Hay _____ animales en el conjunto siguiente.



5. Hay _____ animales en el conjunto siguiente.



6. Hay _____ animales en el conjunto siguiente.



Contar Animales (B) Respuestas

Cuente la cantidad en cada conjunto de animales.


1. Hay 15 animales en el conjunto siguiente.



2. Hay 28 animales en el conjunto siguiente.



3. Hay 20 animales en el conjunto siguiente.



4. Hay 9 animales en el conjunto siguiente.



5. Hay 6 animales en el conjunto siguiente.




6. Hay 18 animales en el conjunto siguiente.



Contar Animales (C)

Cuente la cantidad en cada conjunto de animales.

1. Hay _____ animales en el conjunto siguiente.



2. Hay _____ animales en el conjunto siguiente.



3. Hay _____ animales en el conjunto siguiente.




4. Hay _____ animales en el conjunto siguiente.



5. Hay _____ animales en el conjunto siguiente.



6. Hay _____ animales en el conjunto siguiente.



Contar Animales (C) Respuestas

Cuente la cantidad en cada conjunto de animales.

1. Hay 42 animales en el conjunto siguiente.



2. Hay 18 animales en el conjunto siguiente.



3. Hay 4 animales en el conjunto siguiente.




4. Hay 9 animales en el conjunto siguiente.



5. Hay 12 animales en el conjunto siguiente.



6. Hay 36 animales en el conjunto siguiente.



Contar Animales (B)

Cuente la cantidad en cada conjunto de animales.

1. Hay _____ animales en el conjunto siguiente.



2. Hay _____ animales en el conjunto siguiente.



3. Hay _____ animales en el conjunto siguiente.



4. Hay _____ animales en el conjunto siguiente.



5. Hay _____ animales en el conjunto siguiente.




6. Hay _____ animales en el conjunto siguiente.




Contar animales (B) Respuestas

Cuente la cantidad en cada conjunto de animales.

1. Hay 21 animales en el conjunto siguiente.




2. Hay 15 animales en el conjunto siguiente.



3. Hay 6 animales en el conjunto siguiente.



4. Hay 36 animales en el conjunto siguiente.



5. Hay 30 animales en el conjunto siguiente.



6. Hay 10 animales en el conjunto siguiente.



Contar Animales (E)

Cuente la cantidad en cada conjunto de animales.


1. Hay _____ animales en el conjunto siguiente.



2. Hay _____ animales en el conjunto siguiente.



3. Hay _____ animales en el conjunto siguiente.



4. Hay _____ animales en el conjunto siguiente.



5. Hay _____ animales en el conjunto siguiente.



6. Hay _____ animales en el conjunto siguiente.



Contar animales (E) Respuestas

Cuente la cantidad en cada conjunto de animales.


1. Hay 25 animales en el conjunto siguiente.



2. Hay 24 animales en el conjunto siguiente.



3. Hay 28 animales en el conjunto siguiente.



4. Hay 8 animales en el conjunto siguiente.



5. Hay 21 animales en el conjunto siguiente.



6. Hay 14 animales en el conjunto siguiente.



Contar Animales (F)

Cuente la cantidad en cada conjunto de animales.

1. Hay ____ animales en el conjunto siguiente.



2. Hay ____ animales en el conjunto siguiente.



3. Hay ____ animales en el conjunto siguiente.



4. Hay ____ animales en el conjunto siguiente.



5. Hay ____ animales en el conjunto siguiente.



6. Hay ____ animales en el conjunto siguiente.



Contar animales (F) Respuestas

Cuente la cantidad en cada conjunto de animales.

1. Hay 6 animales en el conjunto siguiente.



2. Hay 12 animales en el conjunto siguiente.



3. Hay 12 animales en el conjunto siguiente.



4. Hay 10 animales en el conjunto siguiente.



5. Hay 16 animales en el conjunto siguiente.




6. Hay 8 animales en el conjunto siguiente.



Contar Animales (G)

Cuente la cantidad en cada conjunto de animales.

1. Hay _____ animales en el conjunto siguiente.




2. Hay _____ animales en el conjunto siguiente.



3. Hay _____ animales en el conjunto siguiente.



4. Hay _____ animales en el conjunto siguiente.



5. Hay _____ animales en el conjunto siguiente.




6. Hay _____ animales en el conjunto siguiente.



Contar Animales (G) Respuestas

Cuente la cantidad en cada conjunto de animales.

1. Hay 28 animales en el conjunto siguiente.



2. Hay 4 animales en el conjunto siguiente.




3. Hay 30 animales en el conjunto siguiente.



4. Hay 15 animales en el conjunto siguiente.



5. Hay 36 animales en el conjunto siguiente.




6. Hay 25 animales en el conjunto siguiente.




Contar Animales (H)

Cuente la cantidad en cada conjunto de animales.

1. Hay _____ animales en el conjunto siguiente.




2. Hay _____ animales en el conjunto siguiente.



3. Hay _____ animales en el conjunto siguiente.



4. Hay _____ animales en el conjunto siguiente.



5. Hay _____ animales en el conjunto siguiente.




6. Hay _____ animales en el conjunto siguiente.




Contar Animales (H) Respuestas

Cuente la cantidad en cada conjunto de animales.

1. Hay 28 animales en el conjunto siguiente.




2. Hay 42 animales en el conjunto siguiente.



3. Hay 20 animales en el conjunto siguiente.



4. Hay 36 animales en el conjunto siguiente.



5. Hay 12 animales en el conjunto siguiente.



6. Hay 8 animales en el conjunto siguiente.



Contar Animales (i)

Cuente la cantidad en cada conjunto de animales.


1. Hay _____ animales en el conjunto siguiente.



2. Hay _____ animales en el conjunto siguiente.



3. Hay _____ animales en el conjunto siguiente.




4. Hay _____ animales en el conjunto siguiente.



5. Hay _____ animales en el conjunto siguiente.



6. Hay _____ animales en el conjunto siguiente.



Contar Animales (i) Respuestas

Cuenta la cantidad en cada conjunto de animales.

1. Hay 10 animales en el conjunto siguiente.



2. Hay 24 animales en el conjunto siguiente.




3. Hay 14 animales en el conjunto siguiente.




4. Hay 15 animales en el conjunto siguiente.



5. Hay 42 animales en el conjunto siguiente.



6. Hay 36 animales en el conjunto siguiente.




Contar Animales (j)

Cuente la cantidad en cada conjunto de animales.

1. Hay _____ animales en el conjunto siguiente.



2. Hay _____ animales en el conjunto siguiente.




3. Hay _____ animales en el conjunto siguiente.



4. Hay _____ animales en el conjunto siguiente.



5. Hay _____ animales en el conjunto siguiente.



6. Hay _____ animales en el conjunto siguiente.




Contar Animales (I) Respuestas

Cuente la cantidad en cada conjunto de animales.

1. Hay 14 animales en el conjunto siguiente.



2. Hay 9 animales en el conjunto siguiente.




3. Hay 30 animales en el conjunto siguiente.



4. Hay 21 animales en el conjunto siguiente.



5. Hay 36 animales en el conjunto siguiente.



6. Hay 35 animales en el conjunto siguiente.

