


# Dibujar la Hora en Relojes Analógicos (C)

Nombre: \_\_\_\_\_

Fecha: \_\_\_\_\_

Dibuje cada hora en el reloj que tiene encima.

1.




  
Medianoche

11:53 AM

  
Mediodía

2.




  
Mediodía

10:15 PM

  
Medianoche

3.




  
Mediodía

5:05 PM

  
Medianoche

4.



  
Medianoche

1:09 AM

  
Mediodía


# Dibujar la Hora en Relojes Analógicos (C) Respuestas

Nombre: \_\_\_\_\_

Fecha: \_\_\_\_\_

Dibuje cada hora en el reloj que tiene encima.

1.




Medianoche

11:53 AM

Mediodía

2.




Mediodía

10:15 PM

Medianoche

3.




Mediodía

5:05 PM

Medianoche

4.



Medianoche

1:09 AM

Mediodía