


# Dibujar la Hora en Relojes Analógicos (H)

Nombre: \_\_\_\_\_

Fecha: \_\_\_\_\_

Dibuje cada hora en el reloj que tiene encima.

1.





Medianoche



Mediodía

1:41 AM

2.





Mediodía

7:27 PM



Medianoche

3.




Mediodía

5:21 PM



Medianoche

4.



Medianoche

6:12 AM



Mediodía


# Dibujar la Hora en Relojes Analógicos (H) Respuestas

Nombre: \_\_\_\_\_

Fecha: \_\_\_\_\_

Dibuje cada hora en el reloj que tiene encima.

1.




  
Medianoche

1:41 AM

  
Mediodía

2.




  
Mediodía

7:27 PM

  
Medianoche

3.




  
Mediodía

5:21 PM

  
Medianoche

4.



  
Medianoche

6:12 AM

  
Mediodía