


# Dibujar la Hora en Relojes Analógicos (A)

Nombre: \_\_\_\_\_

Fecha: \_\_\_\_\_

Dibuje cada hora en el reloj que tiene encima.

1.




  
Medianoche

  
Mediodía

1:15:06 AM

2.




  
Mediodía

  
Medianoche

10:03:57 PM

3.




  
Mediodía

  
Medianoche

1:26:16 PM

4.



  
Medianoche

  
Mediodía

7:45:01 AM


# Dibujar la Hora en Relojes Analógicos (A) Respuestas

Nombre: \_\_\_\_\_

Fecha: \_\_\_\_\_

Dibuje cada hora en el reloj que tiene encima.

1.




Medianoche



Mediodía

1:15:06 AM

2.



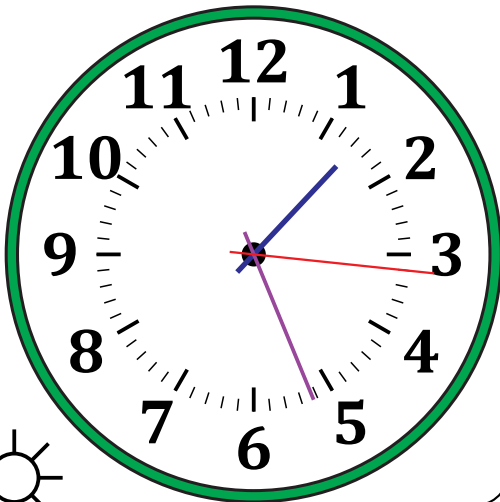
Mediodía

10:03:57 PM



Medianoche

3.




Mediodía

1:26:16 PM



Medianoche

4.



Medianoche

7:45:01 AM



Mediodía