


Dibujar la Hora en Relojes Analógicos (C)

Nombre: _____

Fecha: _____

Dibuje cada hora en el reloj que tiene encima.

1.




Medianoche



Mediodía

7:55:31 AM

2.




Mediodía



Medianoche

1:22:58 PM

3.




Medianoche



Mediodía

3:00:59 AM

4.



Mediodía



Medianoche

11:12:47 PM


Dibujar la Hora en Relojes Analógicos (C) Respuestas

Nombre: _____

Fecha: _____

Dibuje cada hora en el reloj que tiene encima.

1.



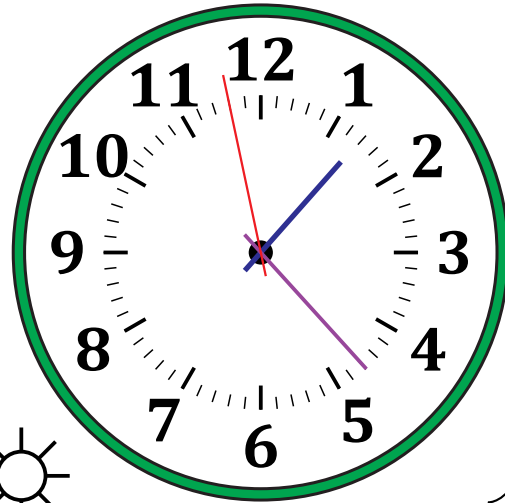
Medianoche

7:55:31 AM



Mediodía

2.




Mediodía

1:22:58 PM

Medianoche

3.



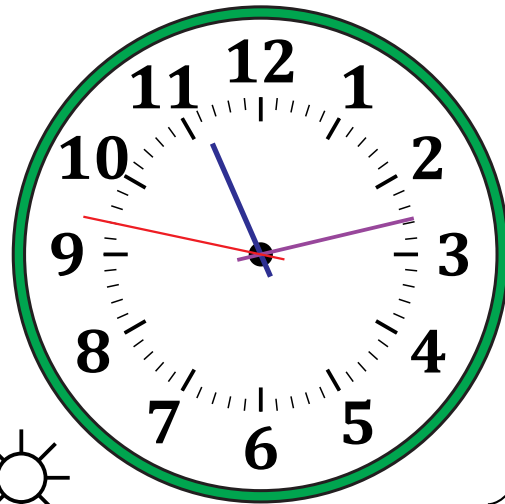
Medianoche

3:00:59 AM



Mediodía

4.



Mediodía

11:12:47 PM

Medianoche