


# Dibujar la Hora en Relojes Analógicos (I)

Nombre: \_\_\_\_\_

Fecha: \_\_\_\_\_

Dibuje cada hora en el reloj que tiene encima.

1.




  
Medianoche

8:38:27 AM

  
Mediodía

2.




  
Mediodía

11:18:40 PM

  
Medianoche

3.




  
Mediodía

4:07:39 PM

  
Medianoche

4.



  
Medianoche

12:16:23 AM

  
Mediodía


# Dibujar la Hora en Relojes Analógicos (I) Respuestas

Nombre: \_\_\_\_\_

Fecha: \_\_\_\_\_

Dibuje cada hora en el reloj que tiene encima.

1.

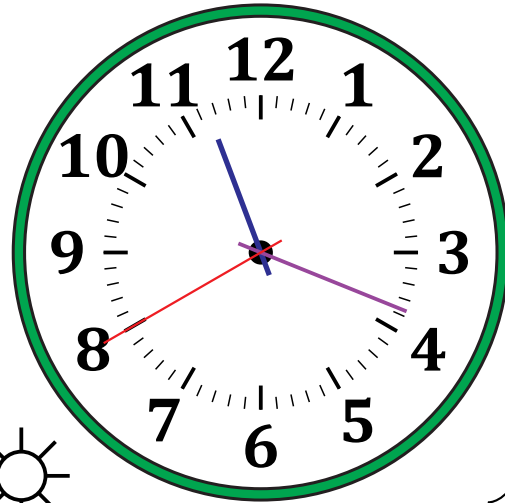


  
Medianoche

8:38:27 AM

  
Mediodía

2.

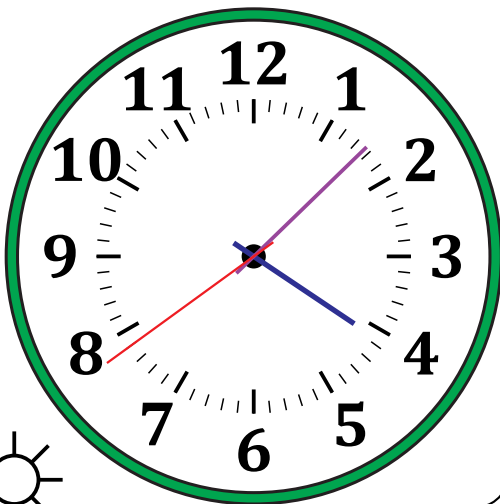


  
Mediodía

11:18:40 PM

  
Medianoche

3.




  
Mediodía

4:07:39 PM

  
Medianoche

4.



  
Medianoche

12:16:23 AM

  
Mediodía