


Dibujar la Hora en Relojes Analógicos (J)

Nombre: _____

Fecha: _____

Dibuje cada hora en el reloj que tiene encima.

1.





Medianoche

7:01:35 AM


Mediodía

2.





Mediodía

12:32:05 PM


Medianoche

3.





Mediodía

6:54:57 PM


Medianoche

4.




Medianoche

3:37:45 AM


Mediodía


Dibujar la Hora en Relojes Analógicos (J) Respuestas

Nombre: _____

Fecha: _____

Dibuje cada hora en el reloj que tiene encima.

1.

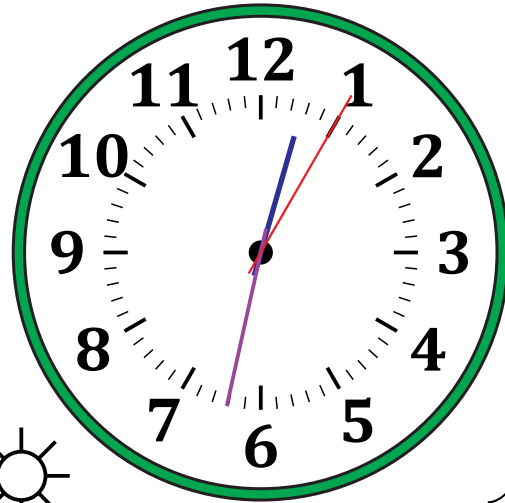



Medianoche


Mediodía

7:01:35 AM

2.

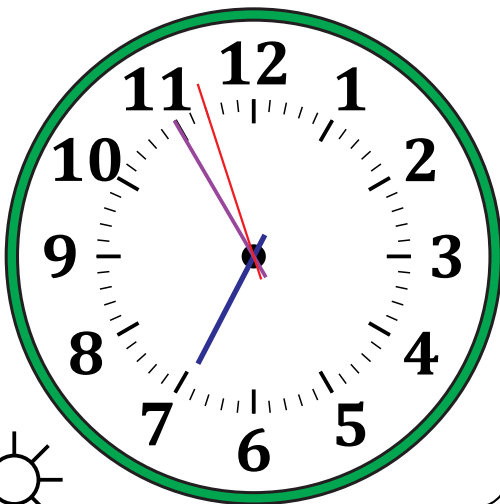



Mediodía


Medianoche

12:32:05 PM

3.





Mediodía


Medianoche

6:54:57 PM

4.




Medianoche


Mediodía

3:37:45 AM