


# Dibujar la Hora en Relojes Analógicos (A)

Nombre: \_\_\_\_\_

Fecha: \_\_\_\_\_

Dibuje cada hora en el reloj que tiene encima.

1.




  
Medianoche

5:28:45 AM



2.




  
Mediodía

3:38:30 PM

  
Medianoche

3.




  
Medianoche

7:43:20 AM



4.



  
Mediodía

7:01:00 PM

  
Medianoche


# Dibujar la Hora en Relojes Analógicos (A) Respuestas

Nombre: \_\_\_\_\_

Fecha: \_\_\_\_\_

Dibuje cada hora en el reloj que tiene encima.

1.



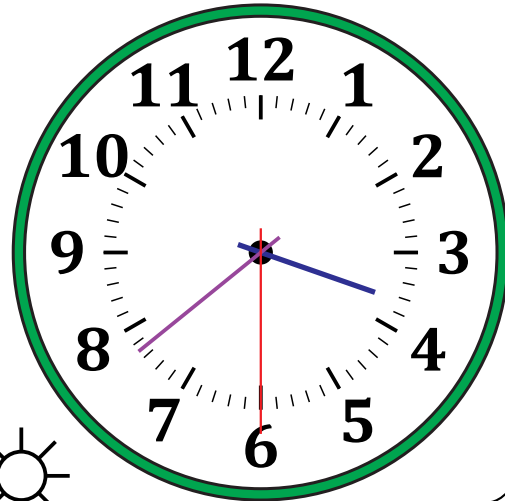
Medianoche

5:28:45 AM



Mediodía

2.




Mediodía

3:38:30 PM

Medianoche

3.



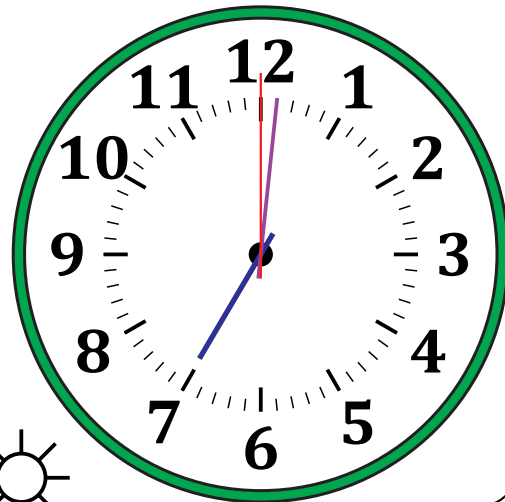
Medianoche

7:43:20 AM



Mediodía

4.



Mediodía

7:01:00 PM

Medianoche