


# Dibujar la Hora en Relojes Analógicos (C)

Nombre: \_\_\_\_\_

Fecha: \_\_\_\_\_

Dibuje cada hora en el reloj que tiene encima.

1.




  
Medianoche

  
Mediodía

2:00 AM

2.




  
Medianoche

  
Mediodía

8:45 AM

3.




  
Mediodía

  
Medianoche

6:30 PM

4.



  
Mediodía

  
Medianoche

2:15 PM


# Dibujar la Hora en Relojes Analógicos (C) Respuestas

Nombre: \_\_\_\_\_

Fecha: \_\_\_\_\_

Dibuje cada hora en el reloj que tiene encima.

1.




  
Medianoche

2:00 AM

  
Mediodía

2.




  
Medianoche

8:45 AM

  
Mediodía

3.




  
Mediodía

6:30 PM

  
Medianoche

4.



  
Mediodía

2:15 PM

  
Medianoche