


Dibujar la Hora en Relojes Analógicos (B)

Nombre: _____

Fecha: _____

Dibuje cada hora en el reloj que tiene encima.

1.




Medianoche



Mediodía

11:02:45 AM

2.




Medianoche



Mediodía

12:02:30 AM

3.




Mediodía



Medianoche

3:19:00 PM

4.



Mediodía



Medianoche

8:59:15 PM


Dibujar la Hora en Relojes Analógicos (B) Respuestas

Nombre: _____

Fecha: _____

Dibuje cada hora en el reloj que tiene encima.

1.





Medianoche

11:02:45 AM


Mediodía

2.

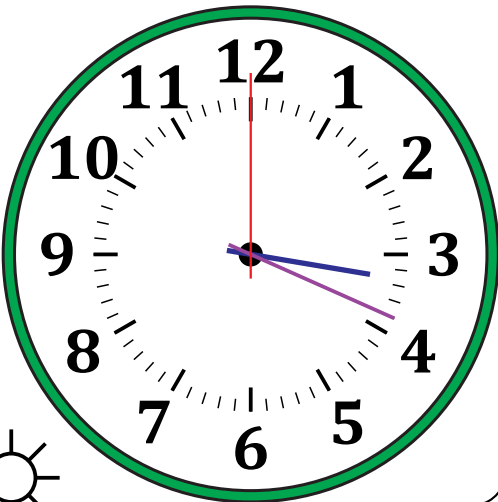



Medianoche

12:02:30 AM


Mediodía

3.

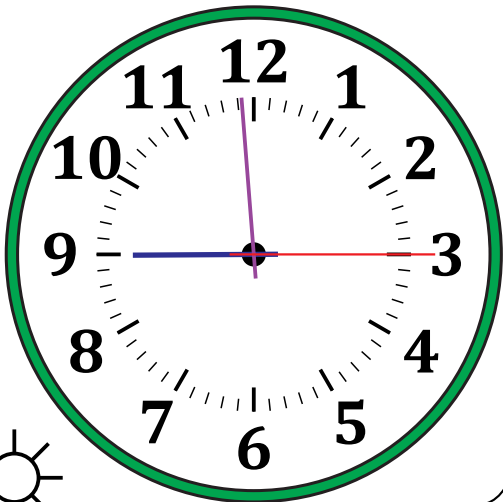



Mediodía

3:19:00 PM


Medianoche

4.




Mediodía

8:59:15 PM


Medianoche