


Dibujar la Hora en Relojes Analógicos (C)

Nombre: _____

Fecha: _____

Dibuje cada hora en el reloj que tiene encima.

1.




Medianoche

6:36:30 AM



Mediodía

2.




Mediodía

6:19:15 PM



Medianoche

3.




Mediodía

4:41:00 PM



Medianoche

4.



Medianoche

5:05:45 AM



Mediodía


Dibujar la Hora en Relojes Analógicos (C) Respuestas

Nombre: _____

Fecha: _____

Dibuje cada hora en el reloj que tiene encima.

1.

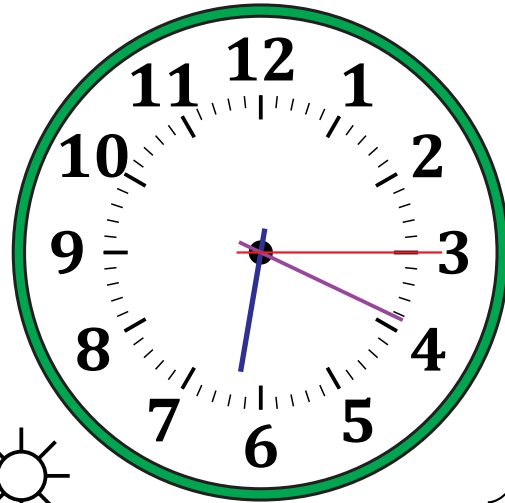



Medianoche

6:36:30 AM


Mediodía

2.

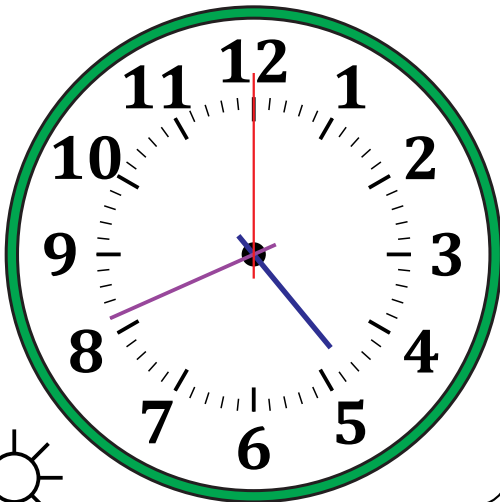



Mediodía

6:19:15 PM


Medianoche

3.





Mediodía

4:41:00 PM


Medianoche

4.




Medianoche

5:05:45 AM


Mediodía