


Dibujar la Hora en Relojes Analógicos (F)

Nombre: _____

Fecha: _____

Dibuje cada hora en el reloj que tiene encima.

1.





Medianoche

4:18:15 AM


Mediodía

2.





Mediodía

9:39:30 PM


Medianoche

3.





Mediodía

12:38:00 PM


Medianoche

4.




Medianoche

6:44:45 AM


Mediodía


Dibujar la Hora en Relojes Analógicos (F) Respuestas

Nombre: _____

Fecha: _____

Dibuje cada hora en el reloj que tiene encima.

1.



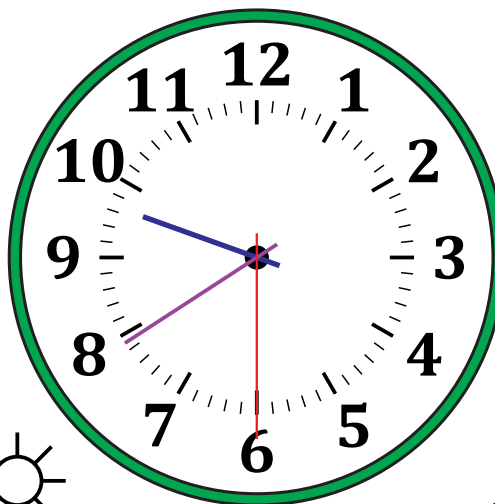
Medianoche



Mediodía

4:18:15 AM

2.

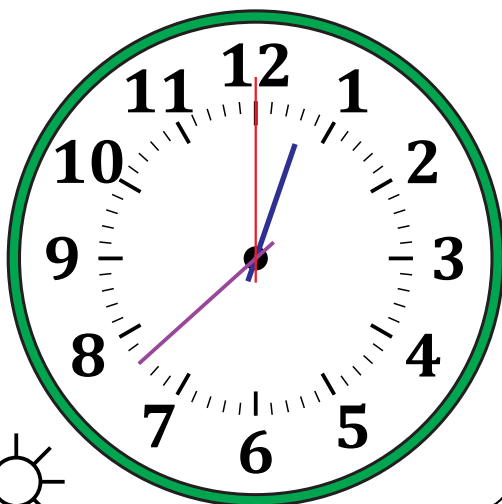


Mediodía

9:39:30 PM

Medianoche

3.




Mediodía

12:38:00 PM



Medianoche

4.



Medianoche

6:44:45 AM



Mediodía