


# Dibujar la Hora en Relojes Analógicos (H)

Nombre: \_\_\_\_\_

Fecha: \_\_\_\_\_

Dibuje cada hora en el reloj que tiene encima.

1.




  
Medianoche

9:17:45 AM

  
Mediodía

2.




  
Mediodía

7:48:15 PM

  
Medianoche

3.




  
Mediodía

5:35:00 PM

  
Medianoche

4.



  
Medianoche

3:31:30 AM

  
Mediodía


# Dibujar la Hora en Relojes Analógicos (H) Respuestas

Nombre: \_\_\_\_\_

Fecha: \_\_\_\_\_

Dibuje cada hora en el reloj que tiene encima.

1.



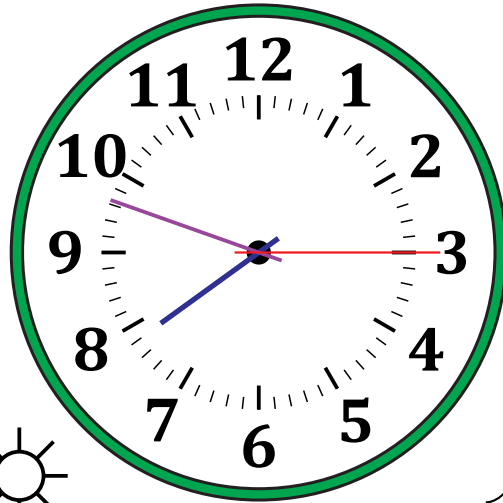
Medianoche



Mediodía

9:17:45 AM

2.




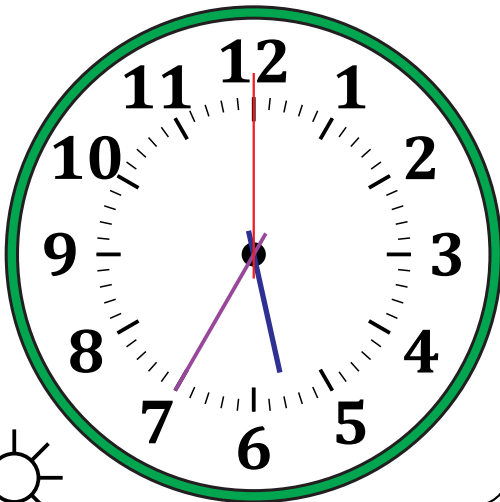
Mediodía



Medianoche

7:48:15 PM

3.




Mediodía



Medianoche

5:35:00 PM

4.



Medianoche



Mediodía

3:31:30 AM