


# Dibujar la Hora en Relojes Analógicos (I)

Nombre: \_\_\_\_\_

Fecha: \_\_\_\_\_

Dibuje cada hora en el reloj que tiene encima.

1.




  
Medianoche

12:30:45 AM

  
Mediodía

2.




  
Medianoche

9:12:30 AM

  
Mediodía

3.




  
Mediodía

12:04:00 PM

  
Medianoche

4.



  
Mediodía

10:16:15 PM

  
Medianoche


# Dibujar la Hora en Relojes Analógicos (I) Respuestas

Nombre: \_\_\_\_\_

Fecha: \_\_\_\_\_

Dibuje cada hora en el reloj que tiene encima.

1.




Medianoche

12:30:45 AM

Mediodía

2.

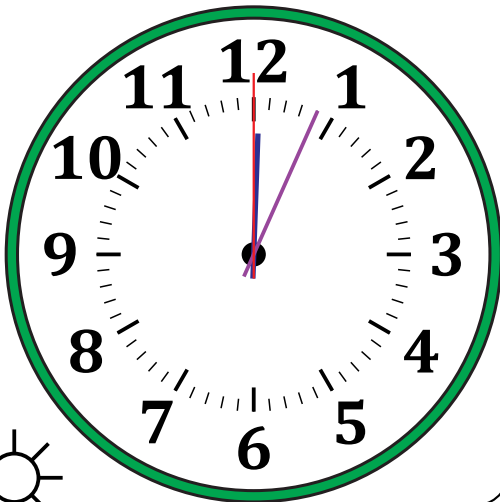


Medianoche

9:12:30 AM

Mediodía

3.

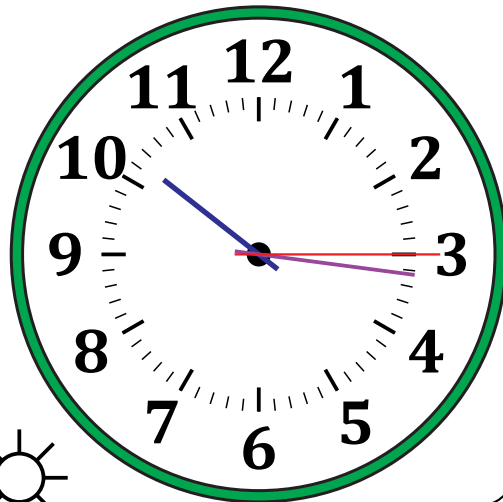


Mediodía

12:04:00 PM

Medianoche

4.



Mediodía

10:16:15 PM

Medianoche