


# Dibujar la Hora en Relojes Analógicos (E)

Nombre: \_\_\_\_\_

Fecha: \_\_\_\_\_

Dibuje cada hora en el reloj que tiene encima.

1.




  
Medianoche

12:00 AM



2.




  
Mediodía

12:00 PM

  
Medianoche

3.




  
Mediodía

8:00 PM

  
Medianoche

4.



  
Medianoche

8:00 AM

  
Mediodía


# Dibujar la Hora en Relojes Analógicos (E) Respuestas

Nombre: \_\_\_\_\_

Fecha: \_\_\_\_\_

Dibuje cada hora en el reloj que tiene encima.

1.




  
Medianoche

12:00 AM



2.

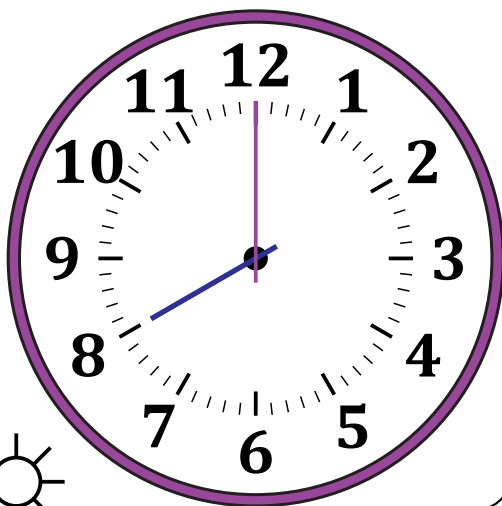


  
Mediodía

12:00 PM

  
Medianoche

3.




  
Mediodía

8:00 PM

  
Medianoche

4.



  
Medianoche

8:00 AM

  
Mediodía