







Dibujar la Hora en Relojes Analógicos (E)




Nombre: _____




Fecha: _____




Dibuje cada hora en el reloj que tiene encima.




1. 
Mediodía  7:30 PM  Medianoche




2. 
Medianoche  7:15 AM  Mediodía




3. 
Medianoche  2:30 AM  Mediodía




4. 
Medianoche  11:00 AM  Mediodía




5. 
Mediodía  3:45 PM  Medianoche




6. 
Mediodía  9:45 PM  Medianoche




7. 
Mediodía  10:15 PM  Medianoche

8. 
Mediodía  4:45 PM  Medianoche

9. 
Mediodía  1:15 PM  Medianoche

10. 
Medianoche  4:00 AM  Mediodía

11. 
Medianoche  12:00 AM  Mediodía

12. 
Medianoche  9:30 AM  Mediodía

Dibujar la Hora en Relojes Analógicos (E) Respuestas

Nombre: _____

Fecha: _____

Dibuje cada hora en el reloj que tiene encima.

