


Dibujar la Hora en Relojes Analógicos (H)

Nombre: _____

Fecha: _____

Dibuje cada hora en el reloj que tiene encima.

1.




Medianoche

03:44




Mediodía

2.



Mediodía

14:36




Mediodía



Medianoche

3.




Medianoche

08:27




Mediodía

4.



Mediodía

19:00



Mediodía



Medianoche


Dibujar la Hora en Relojes Analógicos (H) Respuestas

Nombre: _____

Fecha: _____

Dibuje cada hora en el reloj que tiene encima.

1.




Medianoche

03:44



Mediodía

2.



Mediodía

14:36



Mediodía



Medianoche

3.




Medianoche

08:27



Mediodía

4.



Mediodía

19:00



Mediodía



Medianoche