


# Dibujar la Hora en Relojes Analógicos (F)

Nombre: \_\_\_\_\_

Fecha: \_\_\_\_\_

Dibuje cada hora en el reloj que tiene encima.

1.





Mediodía

14:39:27



Medianoche

2.




Mediodía

18:50:24



Medianoche

3.




Medianoche

01:09:38



Mediodía

4.



Medianoche

09:05:58



Mediodía


# Dibujar la Hora en Relojes Analógicos (F) Respuestas

Nombre: \_\_\_\_\_

Fecha: \_\_\_\_\_

Dibuje cada hora en el reloj que tiene encima.

1.





Mediodía



Medianoche

14:39:27

2.



Mediodía



Medianoche

18:50:24

3.




Medianoche



Mediodía

01:09:38

4.



Medianoche



Mediodía

09:05:58