


# Dibujar la Hora en Relojes Analógicos (J)

Nombre: \_\_\_\_\_

Fecha: \_\_\_\_\_

Dibuje cada hora en el reloj que tiene encima.

1.




Medianoche



Mediodía

04:55:15

2.




Medianoche



Mediodía

06:51:55

3.




Mediodía



Medianoche

17:59:30

4.



Mediodía



Medianoche

20:08:10


# Dibujar la Hora en Relojes Analógicos (J) Respuestas

Nombre: \_\_\_\_\_

Fecha: \_\_\_\_\_

Dibuje cada hora en el reloj que tiene encima.

1.



  
Medianoche

  
Mediodía

04:55:15

2.




  
Medianoche

  
Mediodía

06:51:55

3.




  
Mediodía

  
Medianoche

17:59:30

4.



  
Mediodía

  
Medianoche

20:08:10