



Dibujar la Hora en Relojes Analógicos (H)


Nombre: _____


Fecha: _____


Dibuje cada hora en el reloj que tiene encima.

1. 
Mediodía 13:49:13 Medianoche


2. 
Medianoche 06:27:26 Mediodía


3. 
Mediodía 18:31:02 Medianoche


4. 
Medianoche 03:11:20 Mediodía


5. 
Medianoche 10:06:49 Mediodía


6. 
Mediodía 20:20:35 Medianoche


7. 
Medianoche 05:25:53 Mediodía

8. 
Mediodía 16:03:24 Medianoche

9. 
Medianoche 08:51:02 Mediodía

10. 
Medianoche 01:45:25 Mediodía

11. 
Mediodía 14:21:46 Medianoche

12. 
Mediodía 22:33:46 Medianoche

Dibujar la Hora en Relojes Analógicos (H) Respuestas

Nombre: _____

Fecha: _____

Dibuje cada hora en el reloj que tiene encima.

