

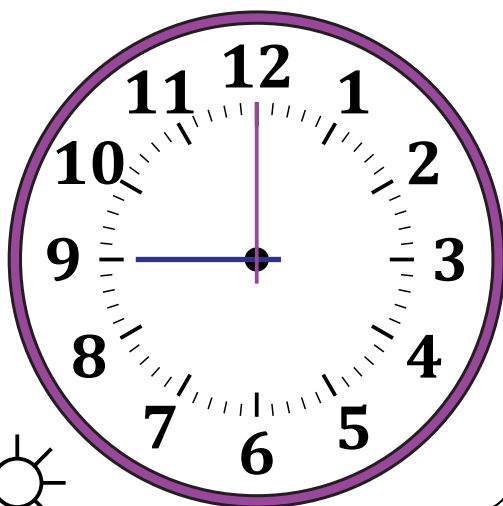
# Leer la Hora en Relojes Analógicos (F)

Nombre: \_\_\_\_\_

Fecha: \_\_\_\_\_

Lea cada hora y escríbala en el espacio debajo del reloj.

1.




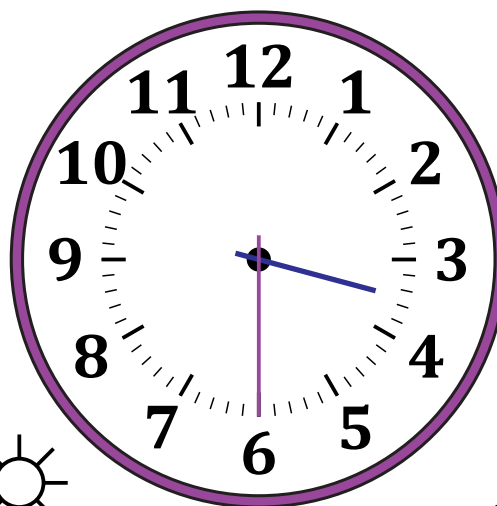
Mediodía



Medianoche

\_\_\_\_\_

2.




Mediodía



Medianoche

\_\_\_\_\_

3.




Medianoche



Mediodía

\_\_\_\_\_

4.



Medianoche



Mediodía

\_\_\_\_\_


# Leer la Hora en Relojes Analógicos (F) Respuestas

Nombre: \_\_\_\_\_

Fecha: \_\_\_\_\_

Lea cada hora y escríbala en el espacio debajo del reloj.

1.




Mediodía

9:00 PM



Medianoche

2.




Mediodía

3:30 PM



Medianoche

3.




Medianoche

5:20 AM



Mediodía

4.



Medianoche

7:45 AM



Mediodía