

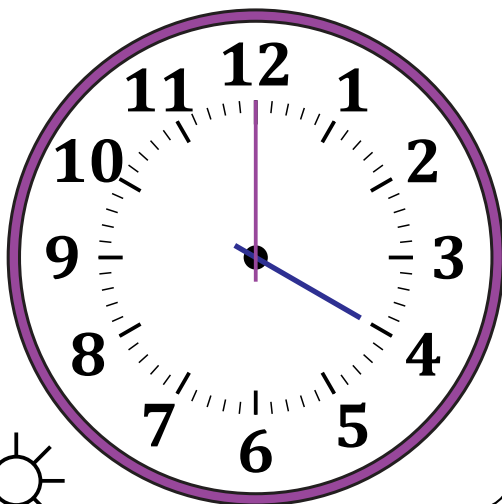
# Leer la Hora en Relojes Analógicos (E)

Nombre: \_\_\_\_\_

Fecha: \_\_\_\_\_

Lea cada hora y escríbala en el espacio debajo del reloj.

1.




Mediodía



Medianoche

\_\_\_\_\_

2.




Medianoche



Mediodía

\_\_\_\_\_

3.



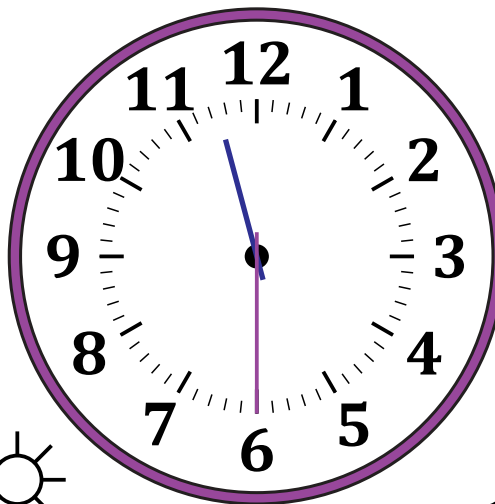
Medianoche



Mediodía

\_\_\_\_\_

4.



Mediodía



Medianoche

\_\_\_\_\_

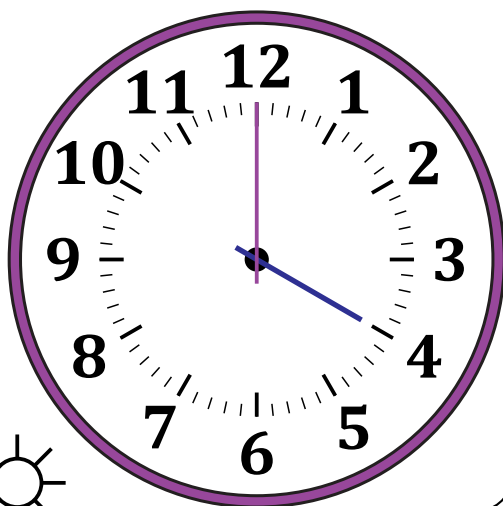
# Leer la Hora en Relojes Analógicos (E) Respuestas

Nombre: \_\_\_\_\_

Fecha: \_\_\_\_\_

Lea cada hora y escríbala en el espacio debajo del reloj.

1.




Mediodía



Medianoche

4:00 PM

2.




Medianoche



Mediodía

6:30 AM

3.




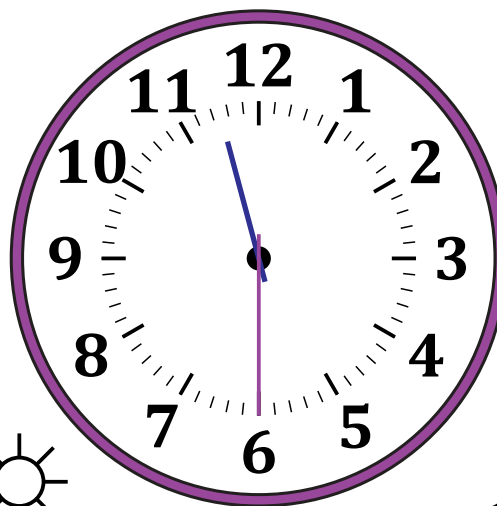
Medianoche



Mediodía

1:00 AM

4.



Mediodía



Medianoche

11:30 PM