


# Leer la Hora en Relojes Analógicos (A)

Nombre: \_\_\_\_\_

Fecha: \_\_\_\_\_

Lea cada hora y escríbala en el espacio debajo del reloj.

1.



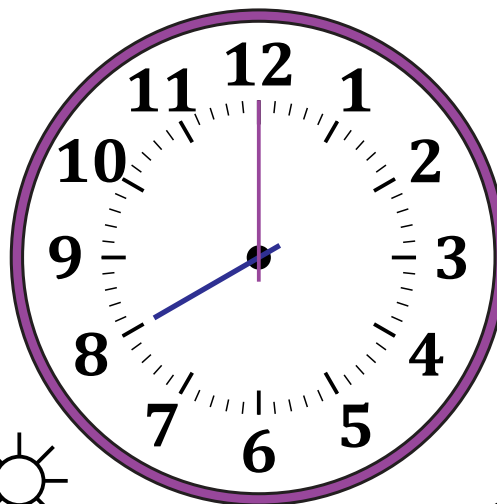
Medianoche



Mediodía

\_\_\_\_\_

2.




Mediodía



Medianoche

\_\_\_\_\_

3.




Mediodía



Medianoche

\_\_\_\_\_

4.



Medianoche



Mediodía

\_\_\_\_\_


# Leer la Hora en Relojes Analógicos (A) Respuestas

Nombre: \_\_\_\_\_

Fecha: \_\_\_\_\_

Lea cada hora y escríbala en el espacio debajo del reloj.

1.

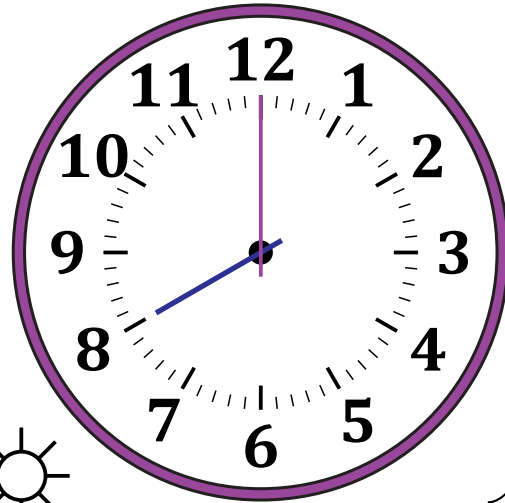


Medianoche

4:00 AM

Mediodía

2.




Mediodía

8:00 PM

Medianoche

3.




Mediodía

12:00 PM

Medianoche

4.



Medianoche

11:00 AM

Mediodía