


# Leer la Hora en Relojes Analógicos (E)

Nombre: \_\_\_\_\_

Fecha: \_\_\_\_\_

Lea cada hora y escríbala en el espacio debajo del reloj.

1.




Medianoche

Mediodía

\_\_\_\_\_

2.

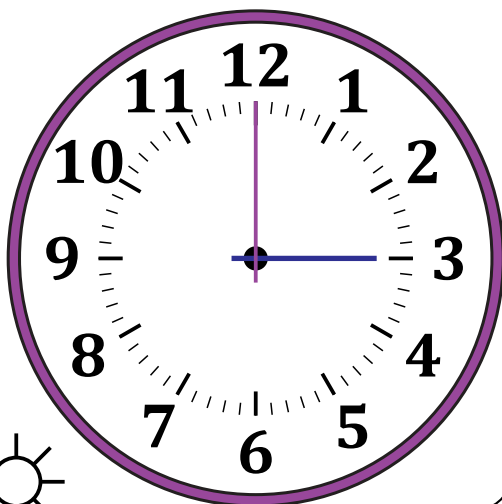


Medianoche

Mediodía

\_\_\_\_\_

3.

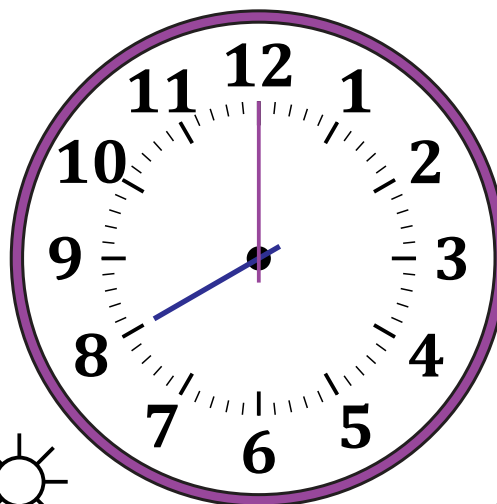


Mediodía

Medianoche

\_\_\_\_\_

4.



Mediodía

Medianoche

\_\_\_\_\_


# Leer la Hora en Relojes Analógicos (E) Respuestas

Nombre: \_\_\_\_\_

Fecha: \_\_\_\_\_

Lea cada hora y escríbala en el espacio debajo del reloj.

1.




Medianoche

Mediodía

6:00 AM

2.

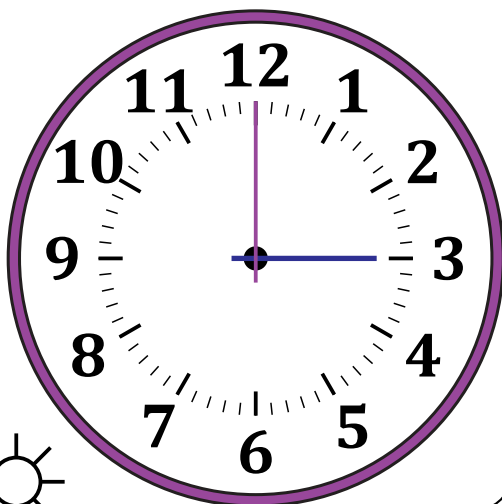


Medianoche

Mediodía

5:00 AM

3.

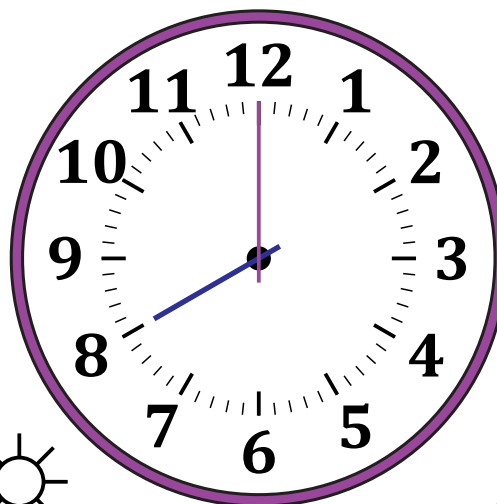


Mediodía

Medianoche

3:00 PM

4.



Mediodía

Medianoche

8:00 PM