



# Leer la Hora en Relojes Analógicos (D)


Nombre: \_\_\_\_\_


Fecha: \_\_\_\_\_


Lea cada hora y escríbala en el espacio debajo del reloj.


1.   
Mediodía Medianoche  
\_\_\_\_\_

2.   
Mediodía Medianoche  
\_\_\_\_\_


3.   
Medianoche Mediodía  
\_\_\_\_\_

4.   
Medianoche Mediodía  
\_\_\_\_\_


5.   
Mediodía Medianoche  
\_\_\_\_\_


6.   
Mediodía Medianoche  
\_\_\_\_\_


7.   
Medianoche Mediodía  
\_\_\_\_\_

8.   
Medianoche Mediodía  
\_\_\_\_\_

9.   
Medianoche Mediodía  
\_\_\_\_\_

10.   
Mediodía Medianoche  
\_\_\_\_\_

11.   
Medianoche Mediodía  
\_\_\_\_\_

12.   
Mediodía Medianoche  
\_\_\_\_\_

# Leer la Hora en Relojes Analógicos (D) Respuestas

Nombre: \_\_\_\_\_

Fecha: \_\_\_\_\_

Lea cada hora y escríbala en el espacio debajo del reloj.

