

# Leer la Hora en Relojes Analógicos (A)

Nombre: \_\_\_\_\_

Fecha: \_\_\_\_\_

Lea cada hora y escríbala en el espacio debajo del reloj.

1.




Medianoche

Mediodía

\_\_\_\_\_

2.



Mediodía

Medianoche

\_\_\_\_\_

3.




Medianoche

Mediodía

\_\_\_\_\_

4.



Mediodía

Medianoche

\_\_\_\_\_


# Leer la Hora en Relojes Analógicos (A) Respuestas

Nombre: \_\_\_\_\_

Fecha: \_\_\_\_\_

Lea cada hora y escríbala en el espacio debajo del reloj.

1.




Medianoche

03:22:01

Mediodía

2.



Mediodía

17:47:08

Medianoche

3.




Medianoche

11:06:52

Mediodía

4.



Mediodía

20:39:14

Medianoche