


# Leer la Hora en Relojes Analógicos (D)

Nombre: \_\_\_\_\_

Fecha: \_\_\_\_\_

Lea cada hora y escríbala en el espacio debajo del reloj.

1.





Mediodía



Medianoche

\_\_\_\_\_

2.



Mediodía



Medianoche

\_\_\_\_\_

3.



Medianoche




Mediodía

\_\_\_\_\_

4.



Medianoche



Mediodía

\_\_\_\_\_


# Leer la Hora en Relojes Analógicos (D) Respuestas

Nombre: \_\_\_\_\_

Fecha: \_\_\_\_\_

Lea cada hora y escríbala en el espacio debajo del reloj.

1.




Mediodía



Medianoche

14:59:24

2.



Mediodía



Medianoche

23:25:14

3.




Medianoche



Mediodía

04:04:26

4.



Medianoche



Mediodía

06:10:56