


# Leer la Hora en Relojes Analógicos (A)

Nombre: \_\_\_\_\_

Fecha: \_\_\_\_\_

Lea cada hora y escríbala en el espacio debajo del reloj.

1.




Mediodía



Medianoche

\_\_\_\_\_

2.



Medianoche



Mediodía

\_\_\_\_\_

3.





Medianoche



Mediodía

\_\_\_\_\_

4.



Mediodía



Medianoche

\_\_\_\_\_


# Leer la Hora en Relojes Analógicos (A) Respuestas

Nombre: \_\_\_\_\_

Fecha: \_\_\_\_\_

Lea cada hora y escríbala en el espacio debajo del reloj.

1.




Mediodía

13:15




Medianoche

2.



Medianoche

05:00




Mediodía

3.





Medianoche

11:55



Mediodía

4.



Mediodía

18:35



Medianoche