


# Leer la Hora en Relojes Analógicos (I)

Nombre: \_\_\_\_\_

Fecha: \_\_\_\_\_

Lea cada hora y escríbala en el espacio debajo del reloj.

1.




Medianoche



Mediodía

\_\_\_\_\_

2.



Mediodía



Medianoche

\_\_\_\_\_

3.




Medianoche



Mediodía

\_\_\_\_\_

4.



Medianoche

\_\_\_\_\_


# Leer la Hora en Relojes Analógicos (I) Respuestas

Nombre: \_\_\_\_\_

Fecha: \_\_\_\_\_

Lea cada hora y escríbala en el espacio debajo del reloj.

1.



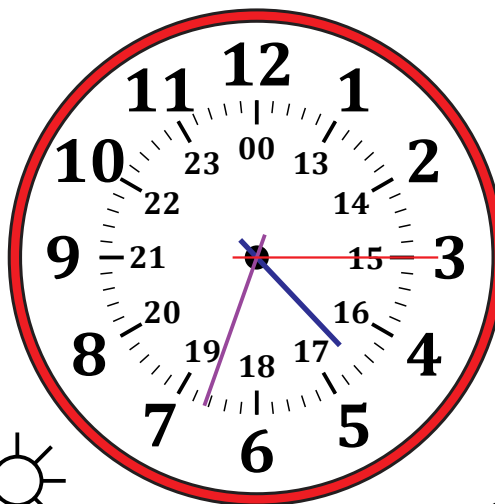
Medianoche

00:36:45




Mediodía

2.



Mediodía

16:33:15



Mediodía



Medianoche

3.




Medianoche

10:03:05




Mediodía

4.



Mediodía

20:07:35



Mediodía



Medianoche