


# Leer la Hora en Relojes Analógicos (D)

Nombre: \_\_\_\_\_

Fecha: \_\_\_\_\_

Lea cada hora y escríbala en el espacio debajo del reloj.

1.




Mediodía



Medianoche

\_\_\_\_\_

2.




Medianoche



Mediodía

\_\_\_\_\_

3.




Mediodía



Medianoche

\_\_\_\_\_

4.



Mediodía

\_\_\_\_\_


# Leer la Hora en Relojes Analógicos (D) Respuestas

Nombre: \_\_\_\_\_

Fecha: \_\_\_\_\_

Lea cada hora y escríbala en el espacio debajo del reloj.

1.




Mediodía



Medianoche

18:45:15

2.





Medianoche



Mediodía

05:59:00

3.




Mediodía



Medianoche

12:52:45

4.



Medianoche



Mediodía

10:34:30