


# Leer la Hora en Relojes Analógicos (A)

Nombre: \_\_\_\_\_

Fecha: \_\_\_\_\_

Lea cada hora y escríbala en el espacio debajo del reloj.

1.




Medianoche



Mediodía

\_\_\_\_\_

2.




Medianoche




Mediodía

\_\_\_\_\_

3.



Mediodía




Medianoche




\_\_\_\_\_

4.



Mediodía



Medianoche



\_\_\_\_\_


# Leer la Hora en Relojes Analógicos (A) Respuestas

Nombre: \_\_\_\_\_

Fecha: \_\_\_\_\_

Lea cada hora y escríbala en el espacio debajo del reloj.

1.




  
Medianoche

  
Mediodía

08:00

2.




  
Medianoche

  
Mediodía

01:00

3.




  
Mediodía

  
Medianoche

14:00

4.



  
Mediodía

  
Medianoche

20:00