


# Leer la Hora en Relojes Analógicos (C)

Nombre: \_\_\_\_\_

Fecha: \_\_\_\_\_

Lea cada hora y escríbala en el espacio debajo del reloj.

1.




  
Medianoche

  
Mediodía

\_\_\_\_\_

2.




  
Mediodía

  
Medianoche

\_\_\_\_\_

3.




  
Mediodía

  
Medianoche

\_\_\_\_\_

4.



  
Medianoche

  
Mediodía

\_\_\_\_\_


# Leer la Hora en Relojes Analógicos (C) Respuestas

Nombre: \_\_\_\_\_

Fecha: \_\_\_\_\_

Lea cada hora y escríbala en el espacio debajo del reloj.

1.




Medianoche

11:00



Mediodía

2.





Mediodía

12:00



Medianoche

3.




Mediodía

19:00



Medianoche

4.



Medianoche

04:00



Mediodía