


# Leer la Hora en Relojes Analógicos (B)

Nombre: \_\_\_\_\_

Fecha: \_\_\_\_\_

Lea cada hora y escríbala en el espacio debajo del reloj.

1.




Mediodía



Medianoche

\_\_\_\_\_

2.




Mediodía



Medianoche

\_\_\_\_\_

3.




Mediodía



Medianoche

\_\_\_\_\_

4.




Medianoche



Mediodía

\_\_\_\_\_

5.




Mediodía



Medianoche

\_\_\_\_\_

6.




Medianoche



Mediodía

\_\_\_\_\_

7.




Medianoche



Mediodía

\_\_\_\_\_

8.




Medianoche



Mediodía

\_\_\_\_\_

9.




Medianoche



Mediodía

\_\_\_\_\_

10.




Medianoche



Mediodía

\_\_\_\_\_

11.




Mediodía



Medianoche

\_\_\_\_\_

12.



Mediodía



Medianoche

\_\_\_\_\_

# Leer la Hora en Relojes Analógicos (B) Respuestas

Nombre: \_\_\_\_\_

Fecha: \_\_\_\_\_

Lea cada hora y escríbala en el espacio debajo del reloj.

